

Fragebogen - Nachtwanderung - Lösungen

1.) Wie groß ist die Gesamtfläche des Kreises Plön?

- 679,23 km²
 1083,17 km²
 18203,46 km²

1 Punkt

2.) Wie viele Landräte hatte der Kreis Plön von 1868 bis heute?

- 9
 13
 18
 31

1 Punkt

3.) Der Kreis Plön grenzt an die Städte Neumünster und Kiel. Welche Kreise gehören zu den direkten Nachbarkreisen?

- A Kreis Segeberg
B Kreis Ostholstein
C Kreis Rendsburg-Eckernförde

3 Punkte

4.) Wie hoch ist das Gesamtalter der Zeltlagerteilnehmer, Jugendliche und Betreuer?

- 1503 Jahre
 3028 Jahre
 4132 Jahre

1 Punkt

5.) Bringe die Buchstaben in die richtige Reihenfolge, so dass es einen Spruch ergibt.

a) SAWUDTEHEUSTKANNRGENBES, SADHIEBEVERSCCHTNIFAUGENMOR!

Lösung: WAS DU HEUTE KANNST BESORGEN, DAS VERSCHIEBE NICHT AUF MORGEN!

b) REDFELAPLTFÄLCHTNITIEWMOVAMMST!

Lösung: DER APFEL FÄLLT NICHT WEIT VOM STAMM!

4 Punkte

Fragebogen - Nachtwanderung - Lösungen

6.) Für welche Brandklasse ist ein mit folgendem Bildzeichen gekennzeichneter Feuerlöscher geeignet?



- für Brände von gasförmigen Stoffen
- für Brände von festen Stoffen
- für Brände von flüssigen oder flüssig werdenden Stoffen

1 Punkt

7.) In welche Richtung ist nach der FwDV 3 bei der Wasserentnahme über Saugschläuche die Saugleitung zu kuppeln?

- Die Saugleitung ist von der Pumpe her zu kuppeln.
- Die Saugleitung ist vom Saugkorb her zu kuppeln.
- Die Aufbaurichtung gibt der Wassertruppführer vor.

1 Punkt

8.) Wer verlegt nach der FwDV 3 bei einem Einsatz einer Gruppe mit B-Rohr die B-Rollschläuche vom Verteiler zum befohlenen Ziel?

- der Angriffs- und der Schlauchtrupp
- der Angriffs- und der Wassertrupp
- der Angriffstrupp

1 Punkt

9.) Wer unterstützt nach der FwDV 3 die Trupps bei der Entnahme der Geräte vom Fahrzeug?

- der Melder
- Niemand, die Trupps müssen das allein machen.
- der Maschinist

1 Punkt

10.) Wie viele Personen müssen nach der UVV-Feuerwehren und der FwDV 1 „Grundtätigkeiten“ mindestens ein BM-Strahlrohr halten, wenn ein Stützkrümmereinsatz nicht möglich ist?

- zwei Personen
- drei Personen
- vier Personen

1 Punkt

Fragebogen - Nachtwanderung - Lösungen

11.) Welche Symptome veranlassen Sie, eine Person in der stabilen Seitenlage zu lagern?

- Bewusstlosigkeit
- Übelkeit
- stark blutende Wunden

1 Punkt

12.) Warum wird bei einer schweren Augenverletzung ein Verband über beide Augen angelegt?

- Weil die Sehkraft durch das Eindringen von Krankheitserregern über beide Augen gefährdet ist.
- Der Verletzte wird dadurch allgemein ruhiger.
- Beide Augen bewegen sich immer gleichzeitig.

1 Punkt

13.) Welche Maßnahmen sind sachgerecht, wenn der Verdacht auf einen Knochenbruch (Fraktur) besteht?

- Kühlen des betroffenen Körperteils (z. B. mit Eisspray)
- Psychische Erste Hilfe leisten und Notruf absetzen
- Schocklage, um ein Abgleiten in einen Schock zu verhindern

1 Punkt

14.) Welche Arten genormte Leitern werden in der FwDV 10 beschrieben?

- Klappleiter
- Steckleiter
- Hakenleiter
- Dreiteilige Schiebleiter

4 Punkte

15.) Wie Viele Sprossen hat ein A-Steckleiterteil und wie viele Sprossen hat das B-Teil?

A-Teil: 9 Sprossen

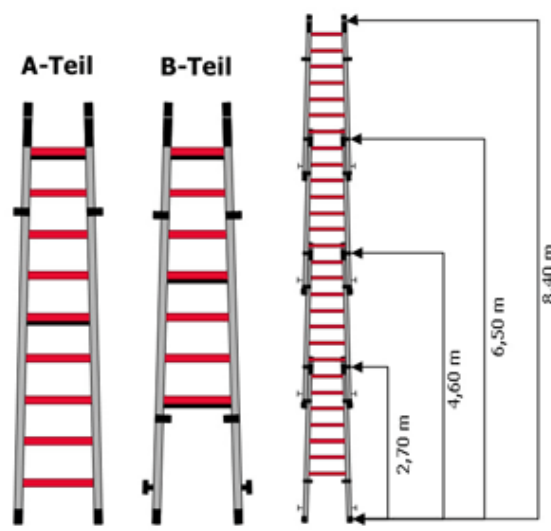
B-Teil: 7 Sprossen

2 Punkte

Fragebogen - Nachtwanderung - Lösungen

16.) Wie ist die Gesamtlänge der Steckleiter bei 1 Teil, bei 2 Teilen, bei 3 Teilen und bei 4 Teilen?

1 Teil	2,7	m
2 Teilen	4,6	m
3 Teilen	6,5	m
4 Teilen	8,4	m



4 Punkte


17.) Welchen Durchmesser haben die Strahlrohre B - C - D und wie viel Wasser fließt bei 5 bar pro Minute durch mit und ohne Mundstück?

Strahlrohr	mit Mundstück				ohne Mundstück			
	D	mm	l	/ min.	D	mm	l	/ min.
D	4	mm	25	l / min.	6	mm	50	l / min.
C	9	mm	100	l / min.	12	mm	200	l / min.
B	16	mm	400	l / min.	22	mm	800	l / min.

12 Punkte

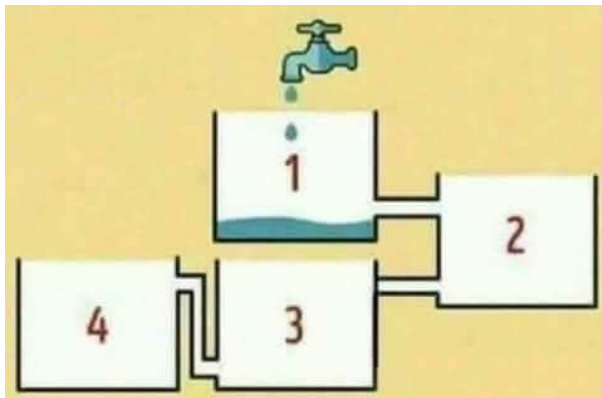
Fragebogen - Nachtwanderung - Lösungen

18.) Dieses „L“ muss in 4 Teile geteilt werden. Alle Teile müssen die gleiche Größe und Form haben.



2 Punkte

19.) Welcher Tank läuft als erstes voll?



Lösung: Das Wasser fließt von Tank 1 zu 2. Da der Tank 3 zu ist, füllt sich Tank 2 komplett mit Wasser bis es überläuft. **Also ist Tank 2 die richtige Antwort.** Tank 1 kann nicht als erstes füllen, da das Wasser zu Tank 2 läuft.

3 Punkte

20.) Welche Zahl wird gesucht?

$$56784 = 4$$

$$11111 = 0$$

$$72348 = 3$$

$$88652 = 5$$

$$88811 = 6$$

$$75213 = 0$$

$$65465 = 3$$

$$62257 = ?$$

Lösung: Die Lösung besteht darin, die durch die Ziffern umrandeten Bereiche zu zählen. Eine 8 hat zwei solche Bereiche. Die Zahlen 4, 6, 9 und 0 haben je einen Bereich. In der Zahl 62257 gibt es genau einen (1) Bereich.

3 Punkte

Gesamt: 48 Punkte